

PROVES DE SELECTIVITAT

Demografia.

A

Laura Boneu
Joel Castaño





Descriviu la informació que apareix en la taula.

- **Població** = Naixements-Defuncions+Creixement natural+Saldo migratori.
- **Creixement vegetatiu natural** = Naixements – Defuncions.
- **Taula:** Població de Catalunya (1976-2005)
- **Població:** En 30 anys augmenta un 30%
- **Naixements:** Disminueixen progressivament fins l'any 2000 que comencen a augmentar de nou.
- **Defuncions:** Augmenten a poc a poc.
- **Creixement natural:** Disminueix molt ràpidament dins que al 2000 tornen a augmentar de manera progressiva.
- **Saldo migratori:** Als anys 80 és negatiu però a partir del 2000 es torna a recuperar


Definiu els termes:

○ **Padró municipal:**

Registre administratiu on consten tots els veïns d'una població. Aquest correspon als ajuntaments i a l' Institut Nacional d'Estadística (INE)

○ **Cens de població:**

El cens de població és un conjunt d'operacions que reuneixen, elaboren i publiquen dades demogràfiques, econòmiques i socials corresponents a tots els habitants d'un país o territori, referits a un moment determinat o a certs períodes donats.



A



Quins són els dos períodes de gran arribada d'immigrants? Expliqueu-ne les causes.

1. Durant els anys 60 fins als anys 80 amb el gran desenvolupament que va haver durant i després del règim franquista.
2. Durant el anys 98 fins al 2006 l'arribada d'immigrants també va créixer a causa de la bombolla immobiliària.



B

Quins són els motius del baix creixement vegetatiu de la població de Catalunya, principalment durant els anys 80 i 90 del segle XX?

○ **Disminució dels naixements:**

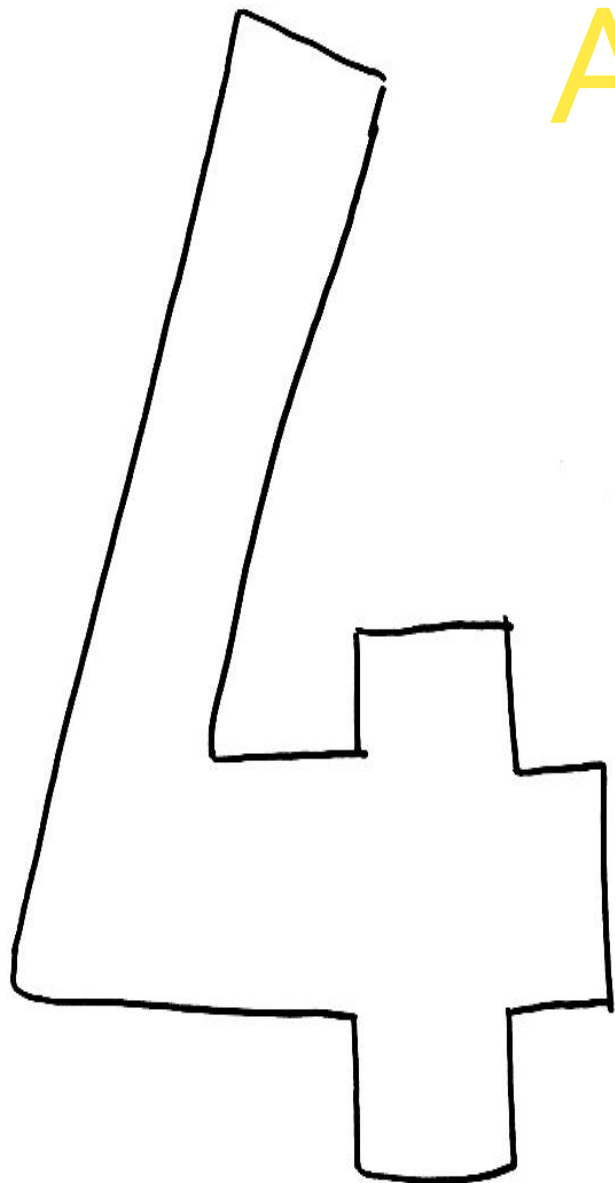
1. Introducció de la dona al món laboral.
2. Disminució del poder de l'església.
3. Popularització dels anticonceptius.
4. Caiguda de la dictadura.

○ **Augment de la mortalitat:**

A causa de l'envelliment de la població.

○ **Augment de la natalitat als 90:**

Causat per l'immigració.



A

Quines fases del model de transició demogràfica es poden reconèixer en l'evolució de la població catalana durant el període 1976-2006? Expliqueu-ne les característiques.

○ **Període 3:**

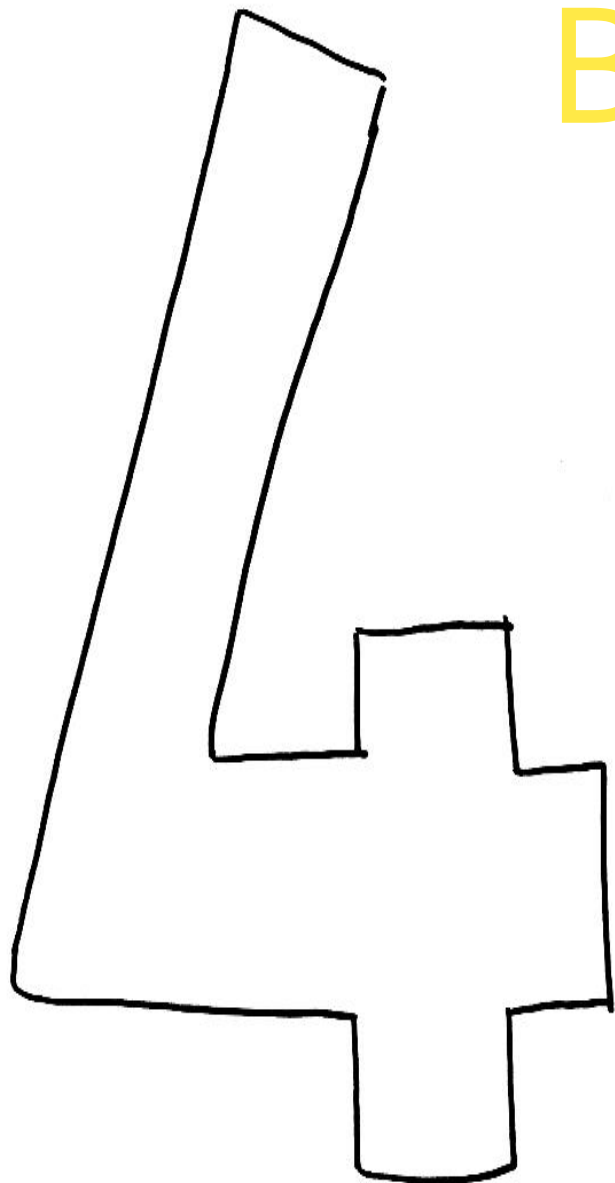
+ Mortalitat / - Natalitat

+ immigració / - emmigració

○ **Període 4:**

+ Mortalitat / - Natalitat

- immigració / + emmigració



B